

МІНІСТЕРСТВО ОСВІТИ І НАУКИ УКРАЇНИ
Чернігівський національний технологічний університет
Кафедра зварювального виробництва та автоматизованого проектування
будівельних конструкцій

ЕЛЕКТРОТЕХНІКА У БУДІВНИЦТВІ

**Методичні вказівки до виконання лабораторних робіт
для студентів за напрямом підготовки 6.060101 "Будівництво "**

Затверджено на засіданні
кафедри зварювального виробництва
та АПБК
Протокол №6 від 05.02.2015 р.

Електротехніка у будівництві. Методичні вказівки до виконання лабораторних робіт для студентів за напрямом підготовки 6.060101 "Будівництво" /Укл. Болотов Г.П. – Чернігів: ЧНТУ, 2015. – 26 с.

Укладач: Болотов Геннадій Павлович, доктор технічних наук, професор кафедри зварювального виробництва та АПБК

Відповідальний за випуск: Харченко Геннадій Костянтинович, завідувач кафедри зварювального виробництва та АПБК, доктор технічних наук, професор,

Рецензент: Березін Леонід Якович, кандидат технічних наук, доцент кафедри зварювального виробництва та АПБК Чернігівського національного технологічного університету

ВСТУП

Методичні вказівки з описом лабораторних робіт з нормативної дисципліни "Електротехніка у будівництві" складені для підготовки фахівців освітньо-кваліфікаційного рівня бакалавр за напрямом 0601–Будівництво.

Методичні вказівки складені таким чином, щоб студент, приступаючи до виконання роботи, мав можливість повторити теоретичний матеріал з відповідних розділів лекційного курсу, ознайомитися із змістом лабораторної роботи, з методикою проведення досліджень та аналізу отриманих результатів.

В описі кожної лабораторної роботи наведені мета, завдання, основні теоретичні відомості та закони електротехніки, необхідні для виконання роботи, принципові електричні схеми випробувань.

Ретельний опис кожної лабораторної роботи надає можливість студенту самостійно виконати необхідні дослідження.

За результатом виконання лабораторних робіт студент зможе самостійно вирішувати наступні практичні задачі:

1. Здійснити монтаж схеми випробувань найпростішого електротехнічного обладнання.
2. Виміряти основні характеристики електричних кіл.
3. Здійснити аналіз отриманих результатів і зробити висновки.

1 ЛАБОРАТОРНА РОБОТА №1

Дослідження нерозгалужених електричних кіл постійного струму з одним та декількома джерелами е.р.с.

1.1 Мета роботи: визначення основних параметрів нерозгалужених електричних кіл постійного струму

1.2 Прилади та матеріали:

Випрямляч ВС-24 або акумулятор – 2 од.

Вольтметр 0...50 В – 2 од.

Амперметр 0...1 А – 1 од.

Реостати – 3 од.

З'єднувальні дроти

1.3 Інформація для самостійної підготовки

На рисунку 1.1 зображена схема найпростішого електричного кола, всі елементи якого утворюють один замкнений контур. Такий контур зветься нерозгалуженим електричним колом. До складу такого контуру входять опори різних електричних навантажень (зокрема, електронагрівальні прилади та інші побутові та промислові пристрої), а також, опори з'єднувальних дротів, які як правило, є незначними і можуть не враховуватись.

Електричний струм у замкненому контурі може виникнути лише під дією е.р.с., створеною джерелом електричної енергії E . Зв'язок між е.р.с. джерела, опорами кола та струмом, що протікає у цьому колі встановлюється законом Ома.

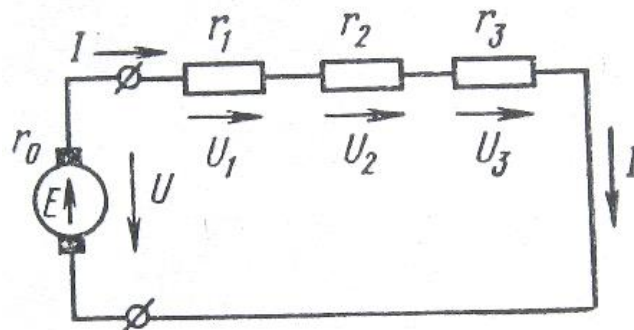


Рисунок 1.1– Схема простого нерозгалуженого електричного кола.

Якщо у колі, наведеному на рисунку 1.1 відома е.р.с., а також, опір зовнішньої ділянки кола (опір споживачів енергії) r та опір внутрішньої ділянки кола (внутрішній опір джерела енергії) r_e , то величину струму можливо знайти за формулою

$$I = \frac{E}{r + r_e} \quad (1.1)$$

Ця формула визначає закон Ома для замкненого контуру електричного кола: величина струму у колі прямо пропорційна е.р.с. джерела та зворотно пропорційна його загальному опорю.

Формулу (1.1) можна представити відносно е.р.с.:

$$E = I(r + r_e) \quad (1.2)$$

або

$$E = rI + r_e I \quad (1.3)$$

Добуток струму на опір представляє собою падіння напруги. Добуток (Ir) є падінням напруги на навантаженні (на зовнішньому опорі), а добуток (Ir_e) – падінням напруги на внутрішньому опорі джерела енергії, е.р.с. дорівнює доданку падінь напруги на внутрішній та зовнішній ділянках кола. Хімічні джерела енергії (акумулятори, гальванічні елементи) мають значний внутрішній опір, електричні джерела (генератори, випрямлячі) характеризуються незначним внутрішнім опором, який при орієнтовних розрахунках можливо не враховувати.

Закон Ома може бути застосований не тільки до всього кола, а й до окремої його ділянки. В цьому випадку е.р.с. E джерела у формулі 1.1 повинна бути замінена різницею потенціалів між початком та кінцем ділянки, тобто напругою U , а замість опорю всього кола у формулу необхідно підставляти опір r даної ділянки.

Хоча у нерозгалуженому колі на всіх його ділянках протікає один і той же струм, він може мати не один, а декілька джерел енергії з різними е.р.с. У колі, зображеному на рисунку 1.2 діють три е.р.с. Одна з них спрямована протилежно двом іншим. Напрямок дії е.р.с. на схемах позначають стрілкою. Всі е.р.с., що співпадають з обраним напрямком струму, вважаються позитивними, а е.р.с. з протилежним напрямком – негативними. Повна е.р.с. у колі на рисунку 1.2 буде складати:

$$\Sigma E = E_1 + E_2 - E_3,$$

а струм:

$$I = \Sigma E / \Sigma r$$

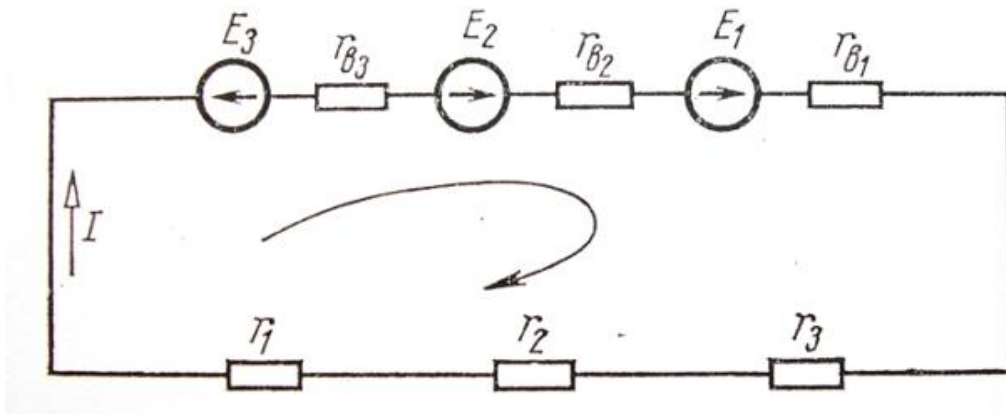


Рисунок 1.2 – Схема нерозгалуженого електричного кола з декількома е.р.с.

1.4 Порядок виконання роботи

1.4.1. Зібрати електричну схему нерозгалуженого контуру з одним джерелом е.р.с., задану викладачем.

1.4.2. Ввімкнути джерело енергії постійного струму (випрямляч або акумуляторні батареї). Встановити задану викладачем напругу на виході джерела.

1.4.3. Виміряти струм у колі.

1.4.4. Визначити величину струму у колі розрахунковим методом та порівняти його з експериментальним значенням.

1.4.5. Визначити величину внутрішнього опору джерела е.р.с.

1.4.6. Повторити досліди для схеми з двома джерелами е.р.с. при їх узгодженому та зустрічному вмиканні.

1.5 Зміст звіту

1.5.1. Найменування роботи та її мета.

1.5.2. Електричні схеми дослідів.

1.5.3. Вхідні дані для проведення дослідів.

1.5.4. Результати вимірювань.

1.5.5. Результати розрахункового визначення параметрів кола.

1.6 Питання для самоперевірки

1.6.1. Поняття нерозгалуженого електричного кола.

1.6.2. Закон Ома для простого нерозгалуженого кола.

1.6.3. Закон Ома для нерозгалуженого кола з декількома джерелами е.р.с.

1.6.4. Які опори входять до складу електричного кола.

2 ЛАБОРАТОРНА РОБОТА №2

Дослідження розгалужених електричних кіл постійного струму з одним або декількома джерелами е.р.с.

2.1 Мета роботи: визначення експериментальними та розрахунковими методами основних параметрів розгалужених електричних кіл постійного струму

2.2 Обладнання та матеріали:

Випрямляч ВС-24 або акумулятор – 2 од.

Вольтметр 0...50 В – 2 од.

Амперметр 0...5 А – 3 од.

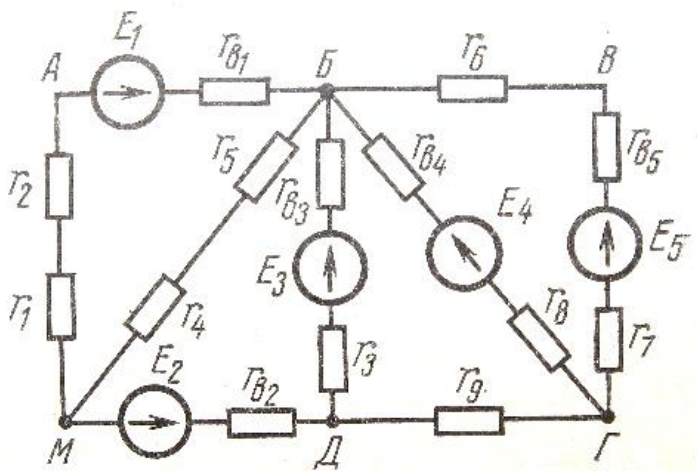
Реостати – 4 од.

З'єднувальні дроти

2.3 Інформація для самостійної підготовки

У розгалужених колах розрізняють наступні елементи: гілки, вузли та контури. Струми, що протікають в окремих елементах кола, можуть бути різними на відміну від нерозгалуженого одноконтурного кола, в якому у всіх елементах протікає один струм.

Гілка – це ділянка електричного кола, у якій протікає один струм. Вона може мати не один будь-який елемент кола, а декілька послідовно з'єднаних. Наприклад, у колі, зображеному на рисунку 2.1, мається сім гілок. Гілка МАБ має три послідовно з'єднаних опори та одне джерело е.р.с.



Рисунку 2.1– Схема складного електричного кола

Вузлом зветься точка кола, де сходяться не менше трьох гілок (точки Б, М, Д, Г на рисунку 2.1).

Електричний контур – будь-який замкнений шлях, утворений гілками кола (наприклад, контури МАБМ, МБГДМ та ін.). Контур МАБВГДМ зветься зовнішнім контуром.

Аналіз схеми на рисунку 2.1 свідчить, що окремі елементи кола (опори) можуть бути з'єднані послідовно у гілках, паралельно у окремих контурах та комбінованим способом у суміжних контурах схеми.

Послідовним з'єднанням опорів зветься таке, при якому по всіх елементах кола протікає один і той же струм (рисунок 2.2)

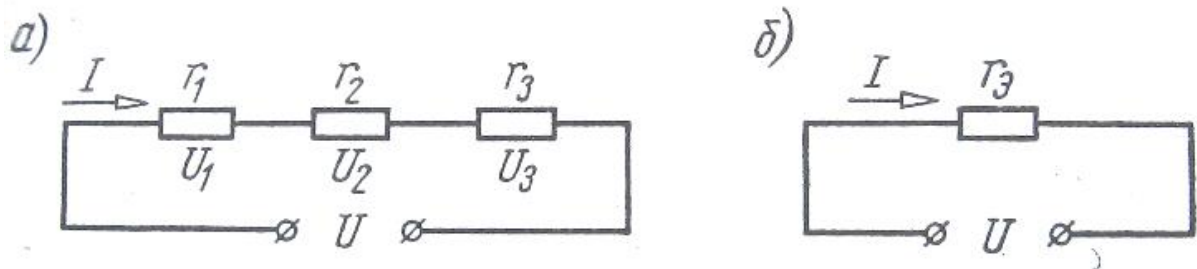


Рисунок 2.2– Послідовне з'єднання опорів (а) та їх заміна еквівалентним опором (б)

Загальна напруга дорівнює додатку падіння напруг на кожному з опорів:

$$U = U_1 + U_2 + U_3 \quad (2.1)$$

або

$$U = r_1 I + r_2 I + r_3 I = I(r_1 + r_2 + r_3) \quad (2.2)$$

Останнє означає, що усі послідовно з'єднані опори можна замінити одним еквівалентним (або рівнозначним) опором r_e , тобто

$$r_1 + r_2 + r_3 = r_e \quad (2.3)$$

Паралельним з'єднанням опорів зветься таке, при якому опори підключаються до однієї й тієї ж пари електричних вузлів (рисунок 2.3). При цьому до всіх опорів прикладається одна і та ж напруга. Струми, що протікають у паралельно з'єднаних опорах, різні, якщо опори неоднакові. Сумарний струм у колі :

$$I = I_1 + I_2 + I_3 \quad (2.4)$$

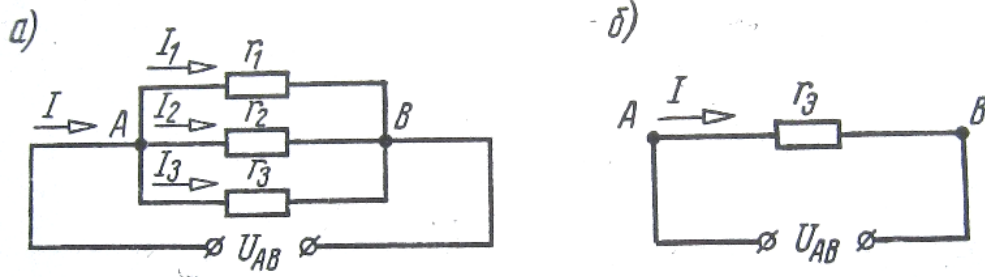


Рисунок 2.3 – Паралельне з'єднання опорів (а) та його заміна еквівалентним опором (б)

За законом Ома струм в окремих гілках такого з'єднання:

$$\begin{aligned} I_1 &= U_{AB}/r_1 \\ I_2 &= U_{AB}/r_2 \\ I_3 &= U_{AB}/r_3 \end{aligned} \quad (2.5)$$

Праві частини рівнянь (2.5) підставимо у рівняння (2.4):

$$I = U_{AB}(1/r_1 + 1/r_2 + 1/r_3) \quad (2.6)$$

або $I = U_{AB}/r_e$, де r_e – еквівалентний опір кола.

Звідси, еквівалентний опір при паралельному з'єднанні визначається формулою

$$1/r_e = 1/r_1 + 1/r_2 + 1/r_3 \quad (2.7)$$

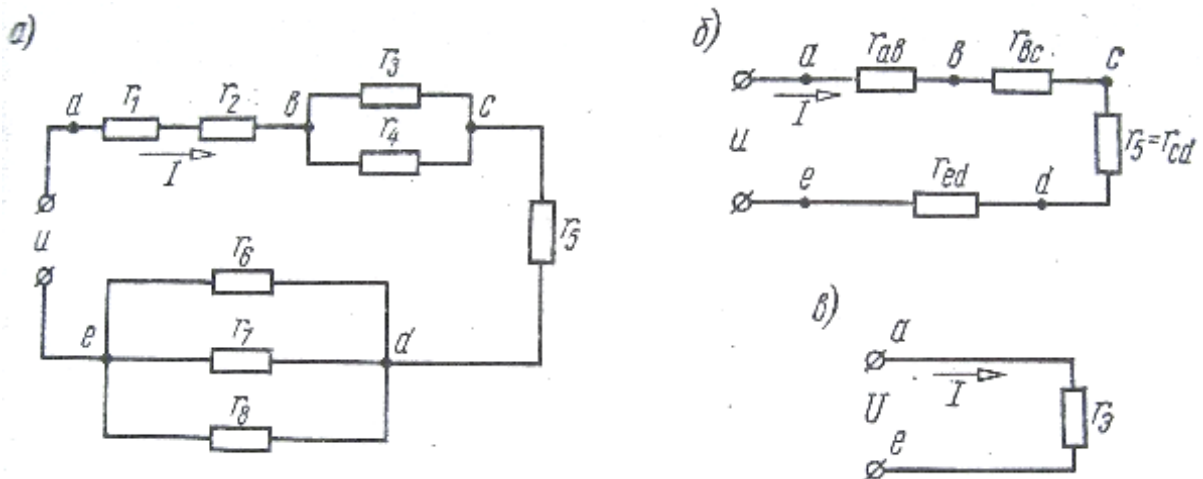


Рисунок 2.4 – Змішане з'єднання опорів (а) та еквівалентні схеми його перетворення (б, в)

При змішаному (комбінованому) з'єднанні частина опорів вмикається послідовно, а частина – паралельно (рисунок 2.4а). Визначення еквівалентного опору при змішаному з'єднанні здійснюють поступово (рисунок 2.4б та в).

Електричні схеми, що мають змішане з'єднання опорів, можуть бути перетворені у більш прості шляхом заміни послідовно та паралельно з'єднаних еквівалентними згідно формул (2.3) та (2.7).

2.4 Порядок виконання роботи

2.4.1. Зібрати електричну схему, задану викладачем.

2.4.2. Ввімкнути джерело е.р.с. постійного струму та встановити на його виході напругу, задану викладачем.

2.4.3. Здійснити вимірювання струмів у окремих гілках кола та загального струму у колі.

2.4.4. Визначити розрахунковими методами струми у окремих гілках та загальний струм у колі.

2.5. Структура звіту.

2.5.1. Найменування роботи та її мета.

2.5.2. Електричні схеми дослідів.

2.5.3. Вхідні дані для проведення дослідів.

2.5.4. Результати вимірювань.

2.5.5. Результати розрахунків та їх порівняння з дослідними значеннями.

2.6. Питання для самоперевірки.

2.6.1. Основні складові розгалужених електричних кіл.

2.6.2. Визначення еквівалентного опору при послідовному з'єднанні.

2.6.3. Визначення еквівалентного опору при паралельному з'єднанні.

2.6.4. Визначення опору кола при комбінованому з'єднанні опорів.

3 ЛАБОРАТОРНА РОБОТА №3

Будова потенціальної діаграми електричного кола

3.1. Мета роботи: ознайомлення з принципом побудови та аналізу потенціальних діаграм електричних кіл.

3.2 Обладнання та матеріали:

Випрямляч ВС-24 – 2 од.

Амперметр 0...1 А.

Вольтметр 0...20 В.

Реостати – 4 од.

З'єднувальні дроти.

3.3. Інформація для самостійної підготовки

Потенціальною діаграмою зветься графік розподілу потенціалу вздовж будь-якої ділянки кола або замкненого контуру в залежності від опорів. Потенціальна діаграма наочно показує розподіл потенціалів у замкненому контурі складного або простого кола. Вона дає можливість легко встановити різницю потенціалів між будь-якими точками кола. Потенціальна діаграма будується на основі закону Ома. Для побудови діаграми необхідно знати величину і напрямок е.р.с., що діють у колі, та величини всіх опорів (у тому числі і внутрішніх опорів джерел е.р.с.), які ввімкнені у коло. Приклад схеми для побудови потенціальної діаграми наведений на рисунку 3.1.

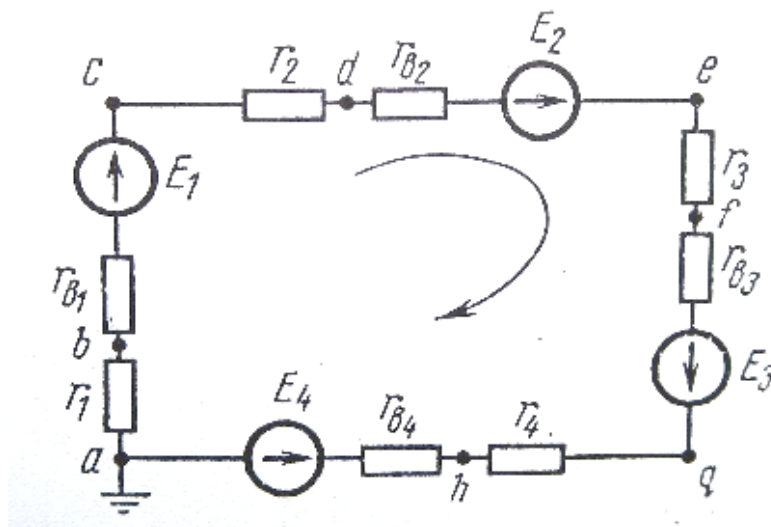


Рисунок 3.1– Схема електричного кола для побудови потенціальної діаграми.

В першу чергу визначається напрямок струму у колі. Для цього знаходиться алгебраїчна сума е.р.с., які діють у колі. В залежності від знаку цієї суми (позитивна або негативна) обирають напрямок струму (за годинниковою стрілкою або навпроти). Величину струму у колі визначають за законом Ома для електричного кола

$$I = \Sigma E / \Sigma r \quad (3.1)$$

Побудову потенціальної діаграми починають звичайно для однієї з точок (наприклад, т. a). Слід відзначити, що для початку відліку можна обрати будь-яку точку кола. Потенціали усіх інших точок кола визначають по відношенню до потенціалу обраної (базисної) точки. Потенціал такої базисної точки може бути взятий довільно, оскільки при зміні його на будь-яку величину потенціали всіх інших точок змінюються на ту ж саму величину і різниця потенціалів на окремих ділянках при цьому не зміниться. Звичайно потенціал базисної точки обирають рівним нулю (на схемі цю точку заземлюють, оскільки потенціал землі умовно приймають за нуль).

Користуючись законом Ома визначають для схеми потенціали точок, умовно вважаючи потенціал точки a рівним нулю:

$$\begin{aligned} \varphi_b &= \varphi_a - Ir_1 \\ \varphi_c &= \varphi_b + E_1 - Ir_{e1} \\ &\dots\dots\dots \\ \varphi_a &= \varphi_h - E_4 - Ir_{e4} \end{aligned} \quad (3.2)$$

Останній результат повинен дорівнювати нулю ($\varphi_a = 0$), що свідчить про те, що всі попередні обчислення зроблені правильно. На основі розрахованих потенціалів будують потенціальну діаграму. Для цього по осі абсцис у певному масштабі і в порядку розрахунку потенціалів, починаючи від заземленої (базисної) точки у напрямку проходження струму, відкладають значення опорів r_1, r_{e1}, r_2 і далі, а по осі ординат – потенціали відповідних точок (кінців опорів). Отримані точки з'єднують між собою прямими лініями і отримують потенціальну діаграму (рисунок 3.2).

Визначивши потенціали точок, можна визначити також напругу між двома будь-якими точками кола, наприклад:

$$U_{cd} = \varphi_c - \varphi_d \quad (3.3)$$

Вивчаючи потенціальну діаграму, можна за зміною потенціалу наочно бачити, на яких ділянках знаходяться джерела енергії або споживачі енергії.

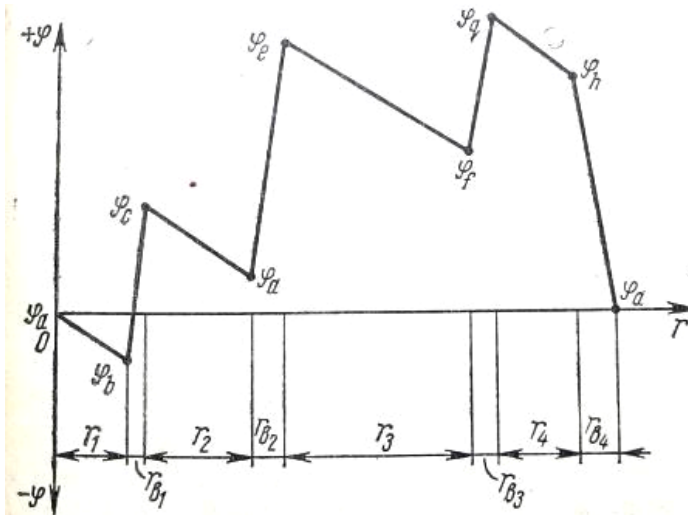


Рисунок 3.2 – Потенціальна діаграма для електричного кола, наведеного на рисунку 3.1.

Потенціальна діаграма може бути побудована для контуру будь-якого складного кола. При розрахунку потенціалів у таких контурах слід враховувати, що струми на окремих ділянках неоднакові.

3.4. Порядок виконання роботи.

3.4.1. Здійснити розрахунок потенціалів точок електричної схеми, наданої керівником.

3.4.2. Зібрати електричну схему.

3.4.3. Встановити задану напругу на джерелах е.р.с.

3.4.4. Визначити потенціал в окремих точках схеми.

Примітка: клему вольтметра із позначкою * підключати до точки схеми, відносно якої вимірюється потенціал.

3.5. Структура звіту.

3.5.1. Найменування роботи та її мета.

3.5.2. Електрична схема дослідів.

3.5.3. Вхідні дані для проведення дослідів.

3.5.4. Результати вимірювань.

3.5.5. Результати розрахунків та їх порівняння з дослідними значеннями у вигляді графіків.

3.6. Питання для самоперевірки.

3.6.1. Що зветься потенціальною діаграмою.

3.6.2. Що показує потенціальна діаграма.

3.6.3. Що таке базисна точка.

3.6.4. Як визначається правильність побудованої потенціальної діаграми.

4 ЛАБОРАТОРНА РОБОТА №4

Визначення величини електричного опору різними методами

4.1. Мета роботи: ознайомлення з методиками визначення величини електричного опору.

4.3.2. Обладнання та матеріали:

Стабілізоване та регульоване джерело напруги ЛІПС-1.

Міст опорів.

Еталонний опір.

Вольтметр 0...10 В.

Амперметр 0...1 А.

Реостати – 2 од.

Вимірюваний опір.

З'єднувальні дроти.

4.3. Інформація для самостійної підготовки

На практиці доводиться вимірювати опори, починаючи від дуже малих значень, порядку 10^{-6} Ом, та закінчуючи великими значеннями $10^{15} \dots 10^{18}$ Ом. У вимірювальній практиці прийнятий наступний орієнтовний розподіл опорів: малі опори – 1 Ом та менше; середні опори – від 1 до 10^5 Ом; великі опори – більше 10^5 Ом. Електричні опори вимірюють трьома основними методами: методом амперметра та вольтметра; методом порівняння; методом електричного моста.

На рисунку 4.1 зображена схема для вимірювання опору методом вольтметра та амперметра. З цієї схеми видно, що вимірюваний опір можна визначити за формулою

$$r_x = \frac{U}{I_A - I_v} \quad (4.1)$$

Щоб вольтметри не створювали значних втрат енергії їх виготовляють із досить значним внутрішнім опором. Тому можливо знехтувати струмом, що проходить через вольтметр і вважати $I_v = 0$.

Власний опір амперметра r_A звичайно дуже малий, тому приймаючи $r_A = 0$ отримуємо:

$$r_x = U/I_A \quad (4.2)$$

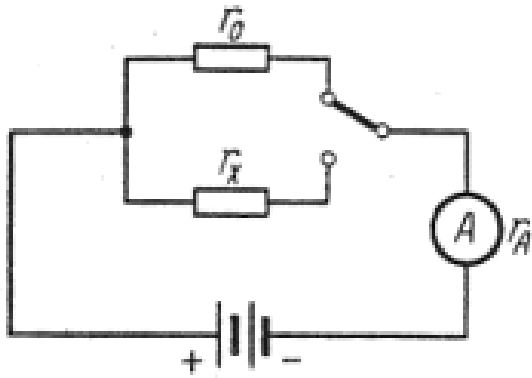


Рисунок 4.1– Вимірювання опору за допомогою вольтметра та амперметра.

Величину опору r_x можна також виміряти шляхом його порівняння з відомим зразковим опором r_o за схемою, зображеною на рис. 4.2. Якщо опір r_o можливо змінювати, то його змінюють так, щоб при двох положеннях перемикача K показання амперметрів були однаковими. В цьому випадку при постійній напрузі джерела можна записати

$$r_x = r_o$$

Якщо зразковий опір r_o постійний, то показання амперметра при двох положеннях перемикача K будуть різними. При цьому маємо

$$I_x(r_x + r_A) = I_o(r_o + r_A) \quad (4.3)$$

Звідси знаходимо вимірюваний опір r_x :

$$r_x = \frac{I_o}{I_x}(r_o + r_A) - r_A \quad (4.4)$$

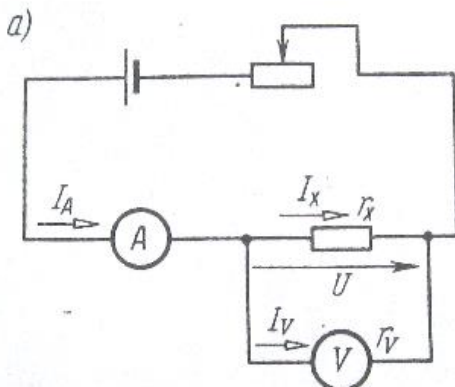


Рисунок 4.2– Схема вимірювання опору методом порівняння

Як вказувалось вище, опір амперметра r_A внаслідок його малості можна не враховувати.

Для вимірювання величини опорів широко застосовують електричну мостову схему (мост Уїтстона), зображену на рисунку 4.3. Опори r_x , r_2 , r_3 , r_4 утворюють так звані плечі моста. Ділянки кола, що з'єднують точки А та С, а також В та D зветься діагоналями моста. Звичайно в одну з діагоналей, в даному випадку діагональ ВD, вмикається вимірювальний прилад (гальванометр або амперметр), до іншої діагоналі АС підключається джерело напруги.

Опори r_2 , r_3 , r_4 (або будь-яке одне з них) виконуються регульованими, опір r_x – вимірюваний опір.

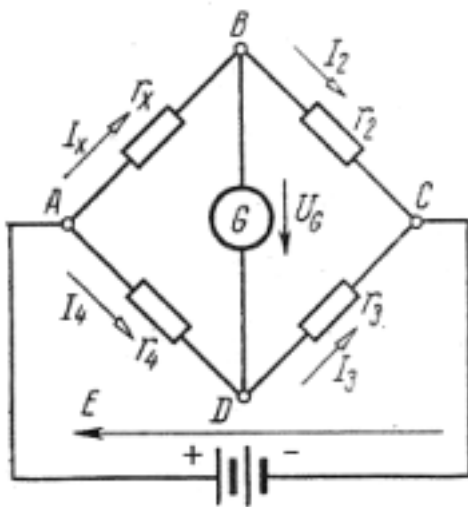


Рисунок 4.3– Схема моста Уїтстона

Опори r_2 , r_3 , r_4 (або одне з них) змінюють таким чином, щоб гальванометр, ввімкнений в діагональ моста, показував відсутність струму (рівноважений міст). При цьому

$$I_x = I_2 \text{ та } I_3 = I_4 \quad (4.5)$$

Для рівноваги моста необхідно, щоб напруги

$$U_{AB} = U_{AD} \text{ та } U_{BC} = U_{CD}$$

$$\text{або } I_x r_x = I_4 r_4 \text{ та } I_2 r_2 = I_3 r_3 \quad (4.6)$$

Звідси:

$$r_x / r_4 = I_4 / I_x \text{ та } r_2 / r_3 = I_3 / I_2 \quad (4.7)$$

Враховуючи (4.5) вираз (4.7) можна записати як:

$$r_x/r_4 = r_2/r_3$$

звідки знаходимо вимірюваний опір

$$r_x = r_4 r_2 / r_3$$

4.4. Порядок виконання роботи

4.4.1. Зібрати електричну схему моста Уїтстона.

4.4.2. Підключити до діагоналі моста джерело постійної напруги і встановити напругу на його виході 10 В.

4.4.3. Регулюванням опору r_2 встановити стрілку гальванометра на нульову позначку.

4.4.4. Враховуючи відомі опори плечей моста визначити величину вимірюваного опору.

4.4.5. Виміряти величину невідомого опору еталонним омметром та порівняти отримане значення із знайденим за допомогою моста.

4.5 Структура звіту

4.5.1. Найменування роботи та її мета.

4.5.2. Технічні характеристики застосованих схем.

4.5.3. Результати експериментів.

4.6. Питання для самоперевірки

4.6.1. На які групи поділяють опори.

4.6.2. Методика вимірювання опору за допомогою вольтметра та амперметра.

4.6.3. Вимірювання опору методом порівняння.

4.6.4. Визначення величини опору за допомогою мостової схеми.

5 ЛАБОРАТОРНА РОБОТА №5

Реактивні елементи в колі змінного струму

5.1. Мета роботи: експериментальне ознайомлення з ємнісним та індуктивним опором в колі змінного струму.

5.2. Обладнання та матеріали:

Досліджувані конденсатори.

Досліджувані індуктивності.

Вольтметр 0...20 В.

Амперметр 0...1 А.

Осцилограф.

З'єднувальні дроти.

5.2. Інформація для самостійної підготовки

Розглянемо коло із ввімкненою в неї ємністю. Якщо в коло постійного струму ввімкнути конденсатор і послідовно з ним високоомний вольтметр, який буде виконувати функцію міліамперметра, то можна спостерігати, що при замиканні кола стрілка вольтметра спочатку стрімко відхилиться, а далі по мірі заряджання конденсатора поступово повертається до нульового значення. Таким чином, постійний струм через конденсатор не проходить.

Якщо конденсатор ввімкнути у коло змінного струму, то буде здійснюватись коливальний процес, що складається у послідовному заряджанні та розряджанні конденсатора. Незважаючи на наявність діелектрика між пластинами конденсатора, на які подається потенціал, змінний струм через конденсатор не припиняється. Якщо перемкнути конденсатор провідником, струм в колі зростає. Звідси, конденсатор в колі змінного струму хоча і не перериває струм, але оказує йому деякий опір, який зветься ємнісним опором.

Згідно закону Ома величина струму в колі з ємністю:

$$I = \omega C U = \frac{U}{1/\omega C} \quad (5.1)$$

Величина $1/\omega C$ представляє собою ємнісний опір, який зворотно пропорційно залежить від ємності C та частоти змінного струму f

$$X_c = \frac{1}{\omega C} = \frac{1}{2\pi fC} \quad (5.2)$$

Оскільки конденсатору для заряджання до максимального значення прикладеної напруги необхідний деякий час, тобто напруга на обкладинках конденсатора зростає поступово, це призводить до того, що напруга в колі змінного струму з конденсатором відстає за фазою від струму в цьому колі (рис. 5.1). Таке розходження фаз зветься зсувом фаз.

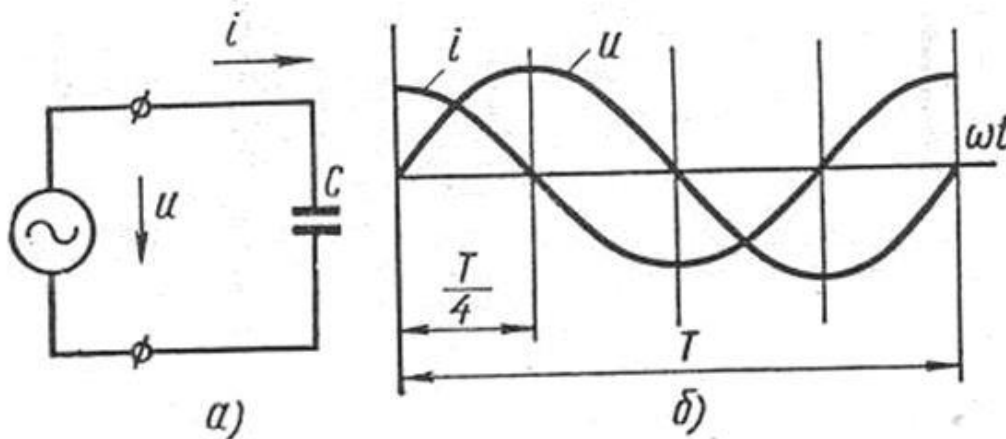


Рисунок 5.1– Графіки змінного струму і напруги в колі з ємнісним опором

Якщо ввімкнути котушку індуктивності в коло постійного струму, то амперметр покаже величину струму, що визначається за законом Ома

$$I = U/R \quad (5.3)$$

де R – величина активного опору дротів котушки, який залежить тільки від їх перерізу та довжини, і не залежить від індуктивності котушки.

При вмиканні котушки в коло змінного струму введення феромагнітного осердя всередину витків призводить до зменшення струму в колі. Тобто, наявність індуктивності рівнозначна наявності опору в колі змінного струму. Опір, що оказує змінному струму котушка індуктивності, зветься індуктивним опором. Цей опір залежить від індуктивності котушки L та частоти мережі f :

$$X_L = \omega L = 2\pi fL \quad (5.4)$$

Дія індуктивного опору пояснюється тим, що будь-яка зміна струму в колі пов'язана із появою у ньому е.р.с. самоіндукції, спрямованої назустріч струму при його наростанні та в одну сторону з ним при

зниженні струму. Завдяки цьому, самоіндукція призводить до відставання струму у колі від напруги за фазою на чверть періоду (рис. 5.2)

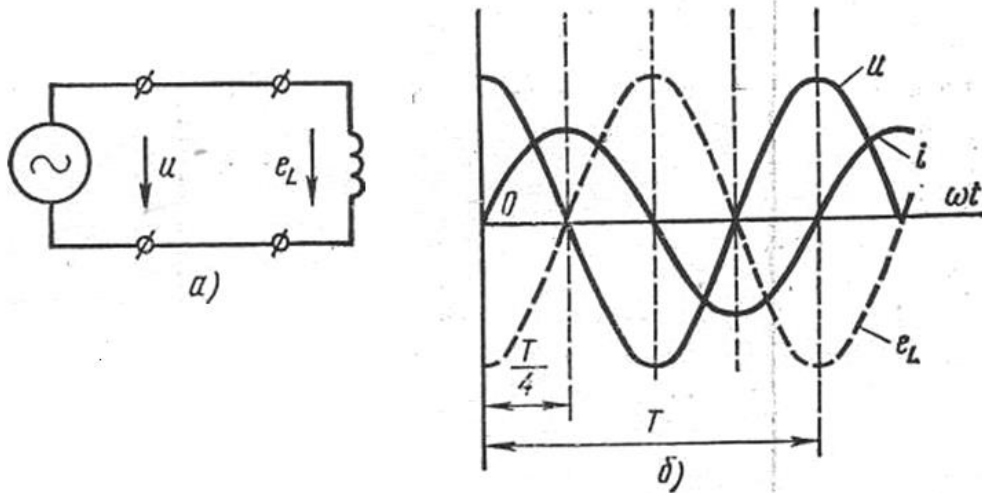


Рисунок 5.2– Графіки струму і напруги для кола змінного струму з індуктивністю

Індуктивність багат шарової котушки без феромагнітного осердя визначається за формулою

$$L = \frac{0,08D_e^2 w^2}{3D_e + 9h + 10t} \quad (5.5)$$

де L – індуктивність у мікрогенрі; D_k – середній діаметр намотки, см; h – висота котушки, см; t – товщина намотки, см; w – кількість витків.

Якщо в колі маються одночасно активний та індуктивний опори, то повний опір кола при їх послідовному з'єднанні буде визначатись як

$$Z = \sqrt{R^2 + X^2} \quad (5.6)$$

5.4 Порядок виконання роботи

5.4.1. Визначення ємності конденсатора

5.4.1.1. Зібрати схему вимірювань, приведену на рисунку 5.3а.

5.4.1.2. Подати на схему напругу 10...20 В і записати показання вольтметра та амперметра.

5.4.1.3. Знайти ємнісний опір.

5.4.1.4. Розрахувати ємність конденсатора.

5.4.2. Визначення індуктивності котушки

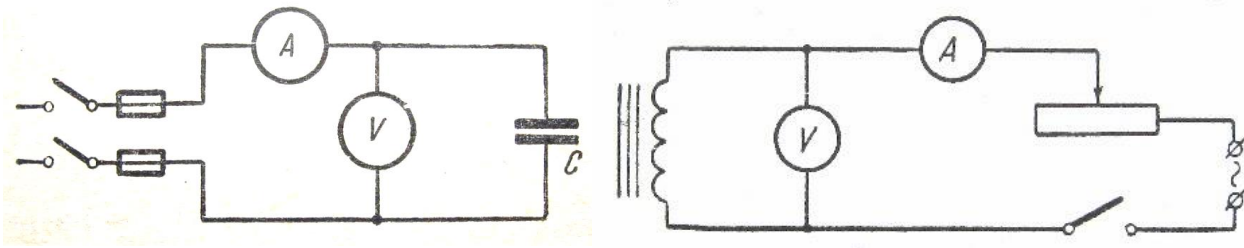
5.4.2.1. Зібрати схему вимірювань, приведену на рисунку 5.3б.

5.4.2.2. Підключити котушку до джерела постійного струму і плавною зміною напруги встановити струм 0,5 та 1 А.

5.4.2.3. Визначити активний опір котушки.

5.4.2.4. Повторити серію дослідів для змінного струму (замінити вимірювальні прилади на прилади змінного струму).

5.4.2.5. Визначити індуктивний опір та індуктивність котушки.



а)

б)

Рис. 5.3. Електричні схеми для дослідження ємнісного (а) та індуктивного (б) опору

5.5 Структура звіту

5.5.1. Найменування та мета роботи.

5.5.2. Вихідні дані для роботи.

5.5.3. Електричні схеми досліджень.

5.5.4. Результати вимірювань та розрахунків.

5.6. Питання для самоперевірки

5.6.1. Що представляє собою ємнісний опір.

5.6.2. Чому з'являється зсув фаз у колі з ємнісним опором.

5.6.3. Завдяки чому утворюється індуктивний опір.

5.6.4. Як визначається повний опір кола.

6 ЛАБОРАТОРНА РОБОТА №6

Дослідження законів Кірхгофа для розгалужених електричних кіл

6.1 Мета роботи: практична перевірка законів Кірхгофа

6.2 Прилади та матеріали:

Випрямляч ВС-24 – 2 од.
 Реостати – 4 од.
 Вольтметр 0...20 В
 Амперметр 0...1 А – 3 од.
 З'єднувальні дроти

6.3 Інформація для самостійної підготовки

У випадку складних розгалужених кіл, які складаються з декількох контурів, мають значну кількість опорів та е.р.с., з'єднаних між собою різним способом, для розрахунку електричних величин (е.р.с., сили струму, величини опорів) окрім закону Ома застосовують два закони Кірхгофа. Перший закон Кірхгофа встановлює співвідношення між струмами у електричному вузлі, а другий – співвідношення між е.р.с. та падіннями напруги на всіх ділянках замкненого контура.

При сталому режимі у колі кількість електрики, що підходить до вузла (рис. 6.1), дорівнює кількості електрики, що виходить з нього за той же час. Тому сума струмів, що приходять до вузла, дорівнює сумі струмів, що виходять з нього.

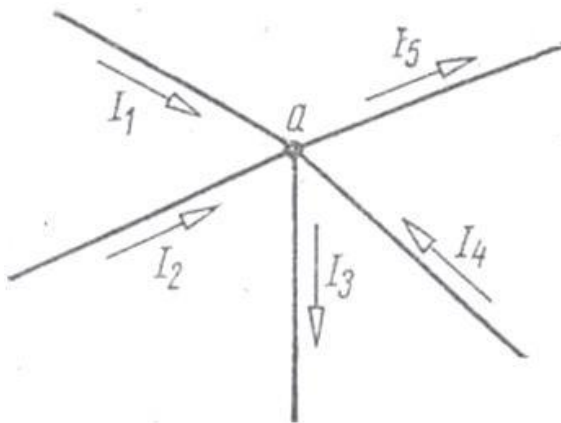


Рисунок 6.1– Електричний вузол

Перший закон Кірхгофа. Алгебраїчна сума сил струмів, що сходяться у вузлі схеми, дорівнює нулю

$$\sum_{k=1}^n I_k = 0$$

де n – кількість струмів, що сходяться у вузлі. Струми, що підходять до вузла, умовно вважають позитивними, а що виходять з вузла – негативними.

Другий закон Кірхгофа. У довільному замкненому контурі електричного кола алгебраїчна сума добутків струмів на величину опорів відповідних ділянок кола (включаючи і внутрішні опори) дорівнює алгебраїчній сумі е.р.с., що знаходяться в цьому контурі,

$$\sum_{j=1}^m I_j R_j = \sum_{i=1}^p E_i \quad (6.1)$$

Другий закон Кірхгофа для кожного замкненого кола можна записати у вигляді

$$\sum_{i=1}^n U_i - \sum_{k=1}^m E_k = 0 \quad (6.2)$$

У окремих гілках замкненого контуру е.р.с. та струми можуть мати різні напрямки, тому при розрахунку електричних кіл за законами Кірхгофа необхідно враховувати наступні правила:

- 1) довільно задати напрямок обходу контурів кола (звичайно контури обходять за годинниковою стрілкою);
- 2) довільно завдатися напрямком струмів у гілках кола;
- 3) добутки RI приймаються із знаком "плюс", коли обраний напрямок струму співпадає із напрямком обходу, та із знаком "мінус" при протилежних напрямках;
- 4) е.р.с. приймається зі знаком "плюс", якщо її напрямок співпадає із обраним напрямком обходу, та із знаком "мінус" при неспівпаданні цих напрямків.

6.4 Порядок виконання роботи

6.4.1. Зібрати електричну схему, задану викладачем.

6.4.2. Ввімкнути випрямляч (випрямлячі) і встановити задану напругу на їх виході.

6.4.3. Виміряти вольтметром падіння напруги на всіх опорах кола, підключаючи його клеми до відводів кожного реостата.

6.4.4. Виміряти амперметрами, ввімкненими у гілки контурів послідовно з реостатами та джерелами е.р.с., силу струму та його напрямок у цих гілках.

6.4.5. Скласти для заданого кола рівняння (6.2) та перевірити його справедливість.

6.5 Структура звіту

6.5.1. Найменування і мета роботи.

6.5.2. Принципова електрична схема досліджень.

6.5.3. Вихідні дані для роботи.

6.5.4. Результати експериментів.

6.5.5. Результати розрахунків за формулами (6.1), (6.2).

6.6 Питання для самоперевірки

6.6.1. Для яких електричних кіл застосовують закони Кірхгофа.

6.6.2 Як формулюється перший закон Кірхгофа.

6.6.3. Як формулюється другий закон Кірхгофа.

Рекомендована література

1. Бессонов Л.А. Теоретические основы электротехники. Электрические цепи. –М.: Высшая школа, 1978.
2. Борисов Ю.М., Липатов Д.Н. Общая электротехника. –М.: Высшая школа, 1974.
3. Зорохович А.Е., Калинин В.К. Электротехника с основами промышленной электроники. –М.: Высшая школа, 1975.
4. Касаткин А.С. Электротехника. –М.: Энергия, 1973.
5. Кузнецов М.Н. Основы электротехники. –М.: Высшая школа, 1972.

Зміст

Вступ.....	3
1. ЛАБОРАТОРНА РОБОТА №1. Дослідження нерозгалужених електричних кіл постійного струму з одним або декількома джерелами е.р.с.....	4
2. ЛАБОРАТОРНА РОБОТА №2. Дослідження розгалужених електричних кіл постійного струму з одним або декількома джерелами е.р.с.....	7
3. ЛАБОРАТОРНА РОБОТА №3. Побудова та аналіз потенціальної діаграми електричного кола	11
4. ЛАБОРАТОРНА РОБОТА №4. Визначення величини електричного опору різними методами.....	14
5. ЛАБОРАТОРНА РОБОТА №5. Реактивні опори в колі змінного струму.....	18
6. ЛАБОРАТОРНА РОБОТА №6. Дослідження законів Кірхгофа для розгалужених електричних кіл.....	22
Рекомендована література	25